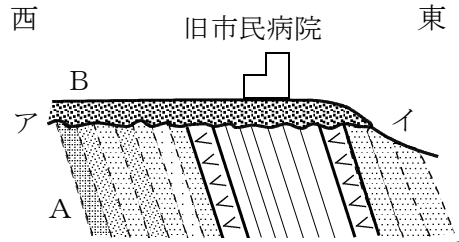


(2) 地層からわかる大地の変化

年 組 席・名前()

課題 図は桑名市高塚町付近(旧市民病付近)の地質断面図です。どのようにして、このような地層ができたのだと思いますか。

Aの地層: 奄芸層群
Bの地層: 中位段丘の地層



【自分の考えとその理由】

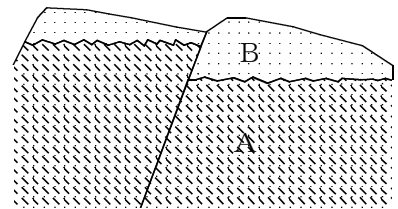
【科学の答え】

【先生の話】

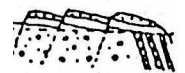
質問 桑名背斜ができるには、地層にどんな力が働いたと考えられますか。

課題 図は大成小学校付近の地質断面図です。どのようにして、このような地層ができたのだと思いますか。

Aの地層: 奄芸層群
Bの地層: 中位段丘の地層



【自分の考えとその理由】



【科学の答え】

【先生の話】

